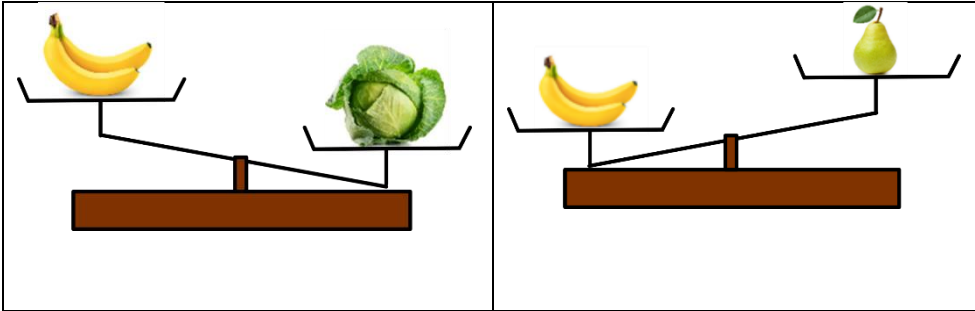


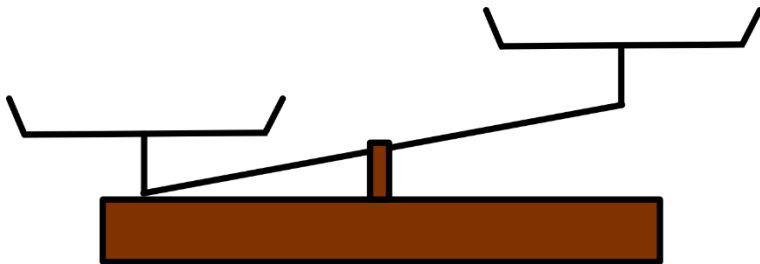
## Die Waagen (1)

1/ Kreise auf jeder Waage das schwerste Objekt ein :



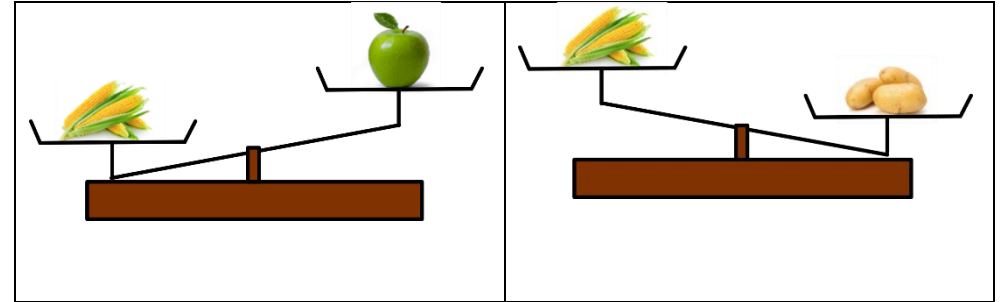
2/ Beobachte die Waagen oben. Du kannst Informationen über das Gewicht von der Birne und vom Kohl finden.

Damit malst du auf dieser Waage die Birne und den Kohl am richtigen Platz :



## Die Waagen (2)

1/ Kreise auf jeder Waage das schwerste Objekt ein :



2/ Beobachte die Waagen oben. Du kannst Informationen über das Gewicht von der Birne und vom Kohl finden.

Damit malst du auf dieser Waage den Apfel und die Kartoffeln am richtigen Platz :

